

ARAHAN : Kertas ini mengandungi 40 soalan. Pilih dan hitamkan jawapan anda di atas kertas jawapan yang diberikan. Jawab semua soalan.

1. Empat ratus lapan belas dalam nombor ialah _____

- A 40 018
- B 4 180
- C 418
- D 4 018

2. Jika dibilang secara menaik seratus – seratus, apakah nombor sebelum 400 ?

- A 500
- B 300
- C 490
- D 499

3. Apakah nilai tempat '8' bagi nombor **589** ?

- A. ribu
- B. ratus
- C. puluh
- D. sa

4. Nilai digit 3 dalam nombor 234 ialah

- A 234
- B 30
- C 3
- D 300

5. Yang manakah di antara nilai nombor berikut paling kecil?

- A 751
- B 715
- C 175
- D 157

6. Sekiranya 468 dibundarkan ke puluh terhampir hasilnya ialah

- A 460
- B 470
- C 450
- D 500

7. Apabila **551** dicerakinkan mengikut nilai digit ialah

- A $500 + 50 + 1$
- B $5 + 5 + 1$
- C $500 + 5 + 1$
- D $500 + 50 + 10$

8. Nyatakan manakah **tertib menurun** dibawah yang betul

- A 110, 111, 112, 113, 114
- B 120, 130, 140, 150, 160
- C 150, 148, 146, 144, 142
- D 200, 150, 149, 160, 161

9. Bundarkan **648** kepada **ratus** yang hampir.

- A 640
- B 650
- C 600
- D 700

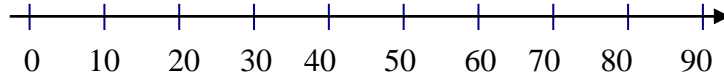
10. Manakah pasangan berikut yang **betul** ?

- A 701 – Tujuh ratus sepuluh
- B 390 – Tiga ratus sembilan
- C 101 – Seribu seratus sepuluh
- D 222 – Dua ratus dua puluh dua

11. Nombor manakah yang **paling besar** nilainya?

- A 990
- B 709
- C 290
- D 991

12.



Garisan di atas menunjukkan susunan **tertib menaik**

- A sepuluh - sepuluh
 - B seratus- seratus
 - C satu- satu
 - D kosong – kosong
13. Di antara nombor yang berikut, yang manakah mempunyai **digit 2** yang bernilai **200**.
- A 922
 - B 203
 - C 102
 - D 521
14. 9 ratus 1 puluh 7 sa =
- A 971
 - B 179
 - C 917
 - D 717
15. Bundarkan **669** pada **puluh** yang hampir.
- A 700
 - B 660
 - C 500
 - D 670
16. Selesaikan $50 + 50 =$
- A 100
 - B 150
 - C 250
 - D 55

17. Cari hasil tambah di antara $303 + 210 =$
- A 531
 - B 340
 - C 3 210
 - D 513
18. 770 adalah hasil tambah :
- A $521 + 249$
 - B $524 + 219$
 - C $590 + 250$
 - D $512 + 294$
19. Antara yang berikut manakah yang **benar** ?
- A $240 + 315 = 555$
 - B $412 + 176 = 558$
 - C $509 + 199 = 608$
 - D $411 + 322 = 713$
20. $303 + \square = 890$
- A 576
 - B 567
 - C 577
 - D 587
21. Jumlah bagi $280 + 339 + 198 =$
- A 817
 - B 871
 - C 771
 - D 717
22. $300 - 25 = \square$
- A 275
 - B 175
 - C 325
 - D 225

23. $5\,480 - 1\,210 = \boxed{}$

- A 4 260
- B 4 630
- C 4 270
- D 3 260

24. $\boxed{} - 1\,486 = 3\,825$

- A 3 541
- B 3 825
- C 5 311
- D 5 921

25. *Empat kumpulan lapan-lapan bermaksud....*

- A 4 kali 4
- B 8 kali 8
- C 4 kali 8
- D 8 kali 4


26. **4 darab 3** adalah sama nilainya dengan

- A 3×6
- B 3×7
- C 3×4
- D 3×5

27. **7 darab 3** ialah ...

- A 21
- B 22
- C 10
- D 11

28.



Rajah di atas adalah mengenai darab. Yang manakah berkaitan dengan rajah ini ?

- A $5 + 5 + 5 + 5$
- B 5 kumpulan empat-empat
- C 4 kumpulan empat-empat
- D 5×4

29. Yang manakah mempunyai nilai yang sama dengan 3×6

- A 6×2
- B 7×4
- C 2×9
- D 9×1

30. $7 \times \square = 42$

- A 5
- B 4
- C 7
- D 6

31. 100 darab dengan 8 akan menghasilkan...

- A 1 008
- B 108
- C 800
- D 80

32. $14 \times 3 =$

- A 41
- B 42
- C 43
- D 44

SULIT

015/1

33. $12 \times 4 =$

- A 36
- B 18
- C 48
- D 60


34. $5 \times 8 =$

- A 30
- B 35
- C 40
- D 45

35. 9 darab 9 ialah

- A 72
- B 64
- C 18
- D 81

36.



Ayat matematik darab berdasarkan rajah di atas ialah

- A $4 \times 4 = 16$
- B $6 \times 5 = 30$
- C $6 \times 6 = 36$
- D $3 \times 4 = 12$

37. $108 \div 9 =$

- A 6
- B 7
- C 12
- D 15

015/1

SULIT

38. Cari baki jika 2 140 dibahagikan dengan 8.

- A 7
- B 6
- C 5
- D 4

39.



Kesemua muffin di atas dibahagikan sama banyak ke dalam 4 kotak kosong. Berapakah bilangan muffin dalam setiap kotak?

- A 7
- B 8
- C 9
- D 10

40. 580 biji guli dimasukkan sama banyak ke dalam 5 biji botol. Berapa bijikah guli yang ada di dalam setiap botol?

- A 214
- B 115
- C 116
- D 101

SOALAN TAMAT

**SKEMA JAWAPAN MATEMATIK TAHUN 3 KERTAS 1
UJIAN PERTENGAHAN TAHUN 206**

SOALAN	JAWAPAN
1	C
2	B
3	C
4	B
5	D
6	B
7	A
8	C
9	C
10	D
11	D
12	A
13	B
14	C
15	D
16	A
17	D
18	A
19	A
20	D

SOALAN	JAWAPAN
21	A
22	A
23	C
24	C
25	C
26	C
27	A
28	A
29	C
30	D
31	C
32	B
33	C
34	C
35	D
36	D
37	C
38	D
39	C
40	C